



**PREFEITURA DE VILA VELHA/ES - QUADRO TÉCNICO
ADMINISTRATIVO**

TURISMÓLOGO

Código da Prova

S22 X
TARDE

 Verifique se o Código da Prova é o mesmo do seu cartão de respostas.

 Duração da prova: **4 horas**

**TRANSCREVA, EM ESPAÇO DETERMINADO NO SEU CARTÃO DE RESPOSTAS,
A FRASE ABAIXO PARA O EXAME GRAFOTÉCNICO:**

**”O planejamento de longo prazo não lida com as decisões futuras,
mas com o futuro de decisões presentes”. (Peter Drucker)**



ATENÇÃO

Este caderno contém (cinquenta) questões de múltipla escolha, cada uma com 05 (cinco) alternativas de resposta – A, B, C, D e E – e uma questão discursiva.

**Verifique se este material está em ordem. Caso contrário, notifique imediatamente o fiscal.
O tempo de duração da prova inclui o preenchimento do cartão de respostas e folha de resposta.**

LEIA AS INSTRUÇÕES ABAIXO:

Siga, atentamente, as formas corretas de preenchimento do cartão de respostas e da folha de respostas, conforme estabelecido nos próprios.

Por motivo de segurança:

- O candidato só poderá retirar-se definitivamente da sala após 1 (uma) hora do início efetivo da prova.
- Somente faltando 1 (uma) hora para o término da prova, o candidato poderá retirar-se levando o seu caderno de questões.
- O candidato que optar por se retirar sem levar o seu caderno de questões não poderá copiar suas respostas por qualquer meio.
- Ao terminar a prova, o candidato deverá se retirar imediatamente do local da prova, não sendo possível nem mesmo a utilização dos banheiros e/ou bebedouros.

Candidato, ao terminar a prova, é de sua responsabilidade entregar ao fiscal o cartão de respostas da Prova Objetiva assinado e a folha de resposta desidentificada. Não se esqueça dos seus pertences.

Os três últimos candidatos deverão permanecer na sala até que o último candidato entregue o cartão de respostas e a folha de resposta. O fiscal de sala não está autorizado a alterar quaisquer dessas instruções. Em caso de dúvida, solicite a presença do coordenador local.

BOA PROVA!

LÍNGUA PORTUGUESA

Questão 1

Assinale a alternativa cuja redação atende aos requisitos de coesão, coerência textual e ortografia da norma culta da língua portuguesa.

- (A) Não foi por acaso que a casa caiu: o veículo em alta velocidade se chocou com a parede e infringiu dano estrutural à construção. Sorte que não havia ninguém ali naquele momento.
- (B) Todos prenderam a respiração por um segundo quando ela lhes informou a novidade: àquela altura, a vultuosa soma de riquezas que achavam ter encontrado já não passava de sucata.
- (C) Dirigiu-se ao Paço Imperial e entregou uma bela cesta de pães ao senescal. Era uma taxa pequena a se pagar por uma audiência secreta com a estrela ascendente da corte nesta colônia.
- (D) Espingarda a tiracolo, o homem seguia o sabujo em busca de sua presa. Como não era possível laçá-lo à cavalo entre as árvores, restava-lhe cassar o animal de modo mais tradicional: chão, cão e chumbo.
- (E) “Não serei o bode espiatório neste escândalo, está me entendendo?”, gritou o velho empresário. E continuou, antes de sair: “Sou um gerador de empregos!”. Decerto esqueceu-se de mencionar que, além disso, era também sonegador contumaz e inveterado.

Questão 2

Advérbio é a classe gramatical das palavras que indicam circunstâncias e, com isso, contextualiza o nosso entendimento do que está se querendo expressar ao usar verbos, advérbios ou de adjetivos. Assinale a alternativa cuja frase utiliza o advérbio que corresponde corretamente à classificação que a acompanha.

- (A) Ele é bastante discreto. Advérbio de modo.
- (B) Não sei o que isso quer dizer. Advérbio de dúvida.
- (C) Fez o exercício apressadamente. Advérbio de intensidade.
- (D) Sempre teremos uns aos outros. Advérbio de tempo.
- (E) Chegou esbaforido e nos contou as boas novas. Advérbio de afirmação.

Questão 3

Dentre as alternativas a seguir, aquela que apresenta ao menos uma frase em discurso indireto é:

- (A) Não havia mais alternativa para eles. Haviam se amado com a mesma intensidade com a qual agora se repeliam. Outrora irmãos na luz, ali, não mais: eram apenas inimigos em meio a fogo.
- (B) Sentou-se na escadaria diante de seu jovem amigo e lhe explicou tópicos de ética, mortalidade e até mesmo religião. Chegou até mesmo a lhe perguntar quem é que poderia saber do dia de amanhã. Tudo isso para salvar o rapagote de sua própria fúria.
- (C) A mulher sabia que lealdade não era algo a se encontrar em qualquer lugar, mas que sempre havia quem estivesse disposto a vender seus serviços. Encontrar bons aliados tratar-se-ia, portanto, menos de valores morais do que de monetários. Contudo, lembrou-se: “sempre pague suas dívidas”, como alertava-lhe o velho.
- (D) “As máquinas um dia irão reger as nossas vidas”, disse a moça. Sua mãe não achava graça. “Quem vai querer se casar com uma mulher que vive com a cabeça na lua?”, perguntou retoricamente. A filha, de pronto, respondeu: “Alguém que não queira que sua esposa fique o dia inteiro na tecelagem. E, de mais a mais, nem sei se quero me casar. Parece-me que dá muito trabalho”.
- (E) Frente à frente, no canto do luxuoso salão de festas, os velhos amigos se observavam. Um deles pensava no que dizer para remediar a situação, para tentar convencer seu sócio a desistir de sua empreitada fadada a fracassar. O outro, por sua vez, pensava em como acalmar os presságios agourentos de seu velho companheiro. Demorou até que um deles falasse qualquer coisa.

Questão 4

Apresenta verbo transitivo direto e indireto a seguinte alternativa:

- (A) Fez muito sol ontem de manhã.
- (B) Corri de tênis no parque.
- (C) Não faça perguntas tolas à sua tia, garoto.
- (D) O abdômen possui um conjunto de músculos de grande importância.
- (E) Não adianta pedir um tempo ao tempo.

Leia o texto e responda as questões 5 e 6.

“Muitas vezes menos mortais do que as epidemias, porém mais frequentes, as sedições de toda natureza marcavam com súbita violência os tempos fortes de uma inquietude coletiva que, entre as explosões, permanecia silenciosa, até mesmo subterrânea. (...) Pode-se então falar, na civilização da Europa pré-industrial, com a condição de não tomar a expressão ao pé da letra, de uma ‘cotidianidade da revolta’”.

(DELUMEAU, Jean. História do Medo no Ocidente. São Paulo: Companhia das Letras, 2009)

Questão 5

Assinale a alternativa a seguir na qual o trecho destacado extraído do texto é classificado como um aposto quanto à sua função sintática.

- (A) “Pode-se então falar, na civilização da (...)”.
- (B) “(...) explosões, permanecia silenciosa, até mesmo (...)”.
- (C) “Muitas vezes menos mortais do que as epidemias, porém mais frequentes, as sedições (...)”.
- (D) “(...) pé da letra, de uma ‘cotidianidade da revolta’”.
- (E) “(...) frequentes, as sedições de toda natureza marcavam com súbita violência os tempos fortes de uma inquietude coletiva que (...)”.

Questão 6

Considere as seguintes afirmações:

I - O texto poderia ser reorganizado da seguinte forma, sem perda de sentido: “As sedições de toda natureza marcavam com súbita violência os tempos fortes de uma inquietude coletiva que permanecia silenciosa ou subterrânea a não ser nos momentos de explosão. Elas eram menos mortais do que as ondas de epidemia, mas eram mais frequentes. (...) Pode-se então falar que as revoltas ocorriam cotidianamente durante a época da civilização da Europa pré-industrial, ainda que não se possa levar esta frase ao pé da letra”.

II - A oração “as sedições de toda natureza marcavam com súbita violência os tempos fortes de uma inquietude coletiva” e a oração “que (...) permanecia silenciosa (...)” possuem uma relação de subordinação adjetiva entre si, sendo a primeira a oração principal e a segunda, um termo integrante.

III - O texto fala sobre como, durante o período anterior à Era Industrial, a Europa passou por um período repleto de revoltas e de doenças, sendo que essas ocorriam com maior frequência que aquelas.

Assinale a alternativa que indica as afirmações corretas sobre o texto supramencionado.

- (A) somente I
- (B) somente I e III
- (C) somente II e III
- (D) somente I e II
- (E) I, II e III

Leia o texto a seguir e responda as questões 7 e 8.

“A universidade esperava-me com as suas matérias árduas; estudei-as muito mediocrementemente, e nem por isso perdi o grau de bacharel; deram-mo com a solenidade do estilo, após os anos da lei; uma bela festa que me encheu de orgulho e de saudades - principalmente de saudades. Tinha eu conquistado em Coimbra uma grande nomeada de folião; era um acadêmico estróina¹, superficial, tumultuário e petulante, dado às aventuras, fazendo romantismo prático e liberalismo teórico, vivendo na pura fé dos olhos pretos e das constituições escritas. No dia em que a universidade me atestou, em pergaminho, uma ciência que eu estava longe de trazer arraigada no cérebro, confesso que me achei de algum modo logrado, ainda que orgulhoso. Explico-me: o diploma era uma carta de alforria; se me dava a liberdade, dava-me a responsabilidade. Guardei-o, deixei as margens do Mondego, e vim por ali fora assaz desconsolado, mas sentindo já uns ímpetos, uma curiosidade, um desejo de acotovelar os outros, de influir, de gozar, de viver - de prolongar a universidade pela vida adiante...”

¹Estróina = Irresponsável

(ASSIS, Machado de. Memórias Póstumas de Brás Cubas. São Paulo: Saraiva, 2011)

Questão 7

Quando Machado de Assis escreveu este texto, utilizou de linguagem simples e coloquial à época, pois sua intenção não era produzir uma forma de literatura exclusiva, mas, sim, acessível. Não obstante, com o passar do tempo, o linguajar utilizado pelo autor hoje parece muito mais formal e rebuscado do que aquele que se costuma utilizar nos textos contemporâneos. Ainda assim, mesmo que alguns termos nos pareçam estranhos, esta obra do século XIX nos é até hoje compreensível, bastando que tenhamos algum domínio da norma culta.

Tendo isto em vista, assinale a alternativa abaixo que resume o texto de maneira mais apropriada.

- (A) Este texto foca nas experiências da juventude do narrador, versando sobre romances, libertinagem e o início de sua carreira profissional de diplomata na Europa Oriental.
- (B) Neste texto, o narrador nos diz que, apesar de ter sido um ótimo aluno, não recebeu qualquer reconhecimento acadêmico pelos seus pares na Europa senão enquanto boêmio.
- (C) Este texto versa sobre os anos em que o narrador esteve estudando em seu exílio em Portugal, relatando que a tristeza pelas dificuldades financeiras só desaparecia quando participava de festas.

- (D) Vivendo a vida universitária intensamente, o narrador nos mostra que esteve profundamente envolvido com a política acadêmica e foca nas explicações do mesmo acerca do que chamou de “romantismo prático” e “liberalismo teórico”.
- (E) Neste texto, o narrador fala sobre sua performance na universidade e pondera saudosamente o aproveitamento que teve de sua vida universitária, concluindo, por fim, que gostaria que o restante de sua existência fosse como uma continuidade daquela época.

Questão 8

Observe a seguinte frase expressa no texto:

“Explico-me: o diploma era uma carta de alforria; se me dava a liberdade, dava-me a responsabilidade”.

Tendo em mente que carta de alforria era o documento que libertava um escravo de sua condição durante o período anterior à abolição, é correto afirmar que, neste trecho, o autor se utiliza de:

- (A) metáfora, comparando “diploma” e “carta de alforria” pelo que possuem em comum.
- (B) metonímia, pois substitui o termo “diploma” pelo termo “carta de alforria”, dada a semelhança e contiguidade entre eles.
- (C) antítese, pois “diploma” e “carta de alforria” expressam palavras contrárias.
- (D) comparação, ponderando as semelhanças entre diploma e carta de alforria.
- (E) sarcasmo, substituindo um termo por seu completo oposto.

Questão 9

Observe o texto a seguir:

“Começo observando que em comparação a eras passadas chegamos a um máximo de racionalidade técnica e de domínio sobre a natureza. Isso permite imaginar a possibilidade de resolver grande número de problemas materiais do homem, quem sabe inclusive o da alimentação. No entanto, a irracionalidade (a) do comportamento é também máxima, servida frequentemente pelos mesmos meios que deveriam realizar os desígnios da racionalidade. Assim, com a energia atômica (b) podemos ao mesmo tempo gerar força criadora e destruir a vida pela guerra; com o incrível progresso industrial aumentamos o conforto até alcançar níveis nunca sonhados, mas excluimos (c) dele as grandes massas que condenamos à miséria; em certos países, como o Brasil (d), quanto mais cresce a riqueza, mais aumenta a péssima distribuição dos bens. Portanto, podemos dizer que os mesmos meios que permitem o progresso podem provocar a degradação da maioria (e)”.

(CANDIDO, Antonio. “O Direito à Literatura” in: Vários Escritos. São Paulo: Duas Cidades, 1995)

Indique a alternativa que identifica corretamente as funções morfossintáticas de termos sublinhados no texto acima.

- (A) Análise morfológica: “a” = artigo definido feminino singular/ “irracionalidade” = adjetivo abstrato
Análise sintática: “a irracionalidade” = sujeito simples
- (B) Análise morfológica: “energia” = substantivo concreto singular feminino/ “atômica” = adjetivo simples singular e biforme
Análise sintática: “energia atômica” = sujeito simples
- (C) Análise morfológica: “excluimos” = verbo no pretérito imperfeito do indicativo na terceira pessoa do plural
Análise sintática: “excluimos” = verbo transitivo direto e indireto
- (D) Análise morfológica: “como” = palavra explicativa / “o” = artigo definido masculino singular / “Brasil” = substantivo próprio masculino
Análise sintática: “como o Brasil” = aposto explicativo
- (E) Análise sintática: “da” = junção de preposição e artigo feminino singular/ “maioria” = substantivo concreto singular feminino
Análise morfológica: “da maioria” = objeto indireto

Questão 10

Observe as frases a seguir e identifique aquela que se adequa corretamente à norma culta.

- (A) A cerca de três anos, Marinho e os outros chegaram à cidade.
- (B) Desde o ocorrido, já há alguns meses, ela não quis mais falar com sua irmã, tão pouco vê-la junto de seu marido.
- (C) O acidente ocorreu há cerca de dois quilômetros daqui, anos atrás.
- (D) A apresentação à cerca do tema não satisfaz os critérios do professor, à despeito do que os alunos pensavam.
- (E) Falou-se muito a respeito disso naquele dia, mas há pouco o que possamos fazer quanto a isso agora.

RACIOCÍNIO LÓGICO QUANTITATIVO

Questão 11

O óleo do motor de um carro de passageiros deve ser trocado a cada 10.000 Km. Qual a alternativa INCORRETA?

- (A) Posso viajar com a família em férias sem trocar o óleo ou faço a troca antes da viagem
- (B) Faço a troca de óleo antes de viajar e com o óleo recomendado pela fábrica
- (C) Qualquer óleo serve ou não posso viajar com segurança
- (D) Trocar de óleo pelo recomendado é caro e não faz diferença nenhuma
- (E) Melhor trocar óleo e viajar com tranquilidade

Questão 12

Se a dúzia de bananas custa R\$ 12,00 e a de laranjas R\$ 10,00, com R\$ 45,00 qual a alternativa INCORRETA?

- (A) 2 dúzias de cada ou 4 dúzias de bananas
- (B) 1 dúzia de bananas e 3 dúzias de laranjas
- (C) 4 dúzias de bananas ou 4 dúzias de laranjas
- (D) 45 bananas e 54 laranjas
- (E) 1 dúzia de bananas e 2 dúzias de laranjas

Questão 13

Considerando que a pandemia da Gripe Espanhola vitimou entre 50 a 100 milhões de pessoas entre 1918 e 1919 qual a alternativa correta?

- (A) Entre 1 milhão e 2 milhões de pessoas morreram todos os meses
- (B) O vírus foi transmitido por água contaminada
- (C) O vírus infectava os pulmões e era passado por secreções passadas por contato e aerossol dos espirros para outras pessoas
- (D) Os casos se propagaram originados em proporção geométrica a partir de 2 casos com uma razão $(q) = 2$
- (E) Os casos se propagaram originados em proporção geométrica a partir de 10 casos com uma razão $(q) = 1,05$

Questão 14

Qual a proposição é INCORRETA?

- (A) São Paulo faz fronteira com o Amazonas ou São Paulo faz fronteira com o Rio de Janeiro
- (B) Rio de Janeiro faz fronteira com Minas Gerais e sua capital é Rio de Janeiro
- (C) Belém a capital do Pará e fica na região Nordeste
- (D) O Clube do Remo fica em Belém do Pará ou em Manaus
- (E) A capital do Espírito Santo é Vitória ou Colatina.

Questão 15

Aeroportos regionais (aviação executiva)	distancia rodoviaria até Vitória [Km]	distancia em linha reta até Vitória [Km]	de viagem rodoviaria até Vitória	de média rodoviaria até Vitória	Tempo de Voo [minutos]
São Mateus	216	184	191	67,9	43,0
Linhares	134	106	120	67,0	37,0
Colatina	134	91,3	124	64,8	36,0
Guarapari	55,4	45,1	58	57,3	33,0
Cachoeiro de Itapemirim	137	103	144	57,1	37,0

Considerando a tabela acima, qual a proposição INCORRETA:

- (A) Colatina tem a estrada com traçado mais complicado até Vitória
- (B) As estradas para São Mateus e Guarapari s mais bem traçadas
- (C) A estrada para São Mateus além de ter a maior distância até Vitória tem um dos traçados melhores
- (D) O voo de Cachoeiro de Itapemirim encurta o tempo de viagem para Vitória em quase 4 vezes o tempo gasto por rodovia
- (E) Ir de Guarapari para Vitória de avião tem o melhor benefício que para os outros aeroportos citados na tabela.

CONHECIMENTOS DE GESTÃO DA QUALIDADE E ADMINISTRAÇÃO PÚBLICA

Questão 16

Sobre o ciclo PDCA, o que é correto afirmar?

- (A) É um método interativo de gestão de quatro passos, utilizado para o controle e melhoria contínua de processos e produtos
- (B) Foi criado no Brasil especialmente para gestão no serviço público
- (C) Não tem aplicação prática no âmbito da administração pública, já que foi criado para gestão empresarial
- (D) Tem por suas iniciais as palavras (P)proceder, (D)distribuir, (C)contratar e (A)atuar
- (E) O ciclo PDCA ficou conhecido a partir da década de 1930, apesar de ser do final do século XVIII.

Questão 17

Tendo como objeto o patrimônio público, a Contabilidade aplicada ao Setor Público tem como objetivo:

- (A) a soma, agregação ou divisão de patrimônio de uma ou mais entidades do setor público resultará em novas unidades contábeis.
- (B) fornecer aos usuários informações sobre os resultados alcançados e os aspectos de natureza orçamentária, financeira e econômica.
- (C) o que se entende por balanço patrimonial.
- (D) os Princípios de Contabilidade e as normas contábeis direcionados ao controle patrimonial de entidades do setor público.
- (E) prestação de contas e à instrumentalização do controle social.

Questão 18

Os cargos públicos são acessíveis a todos os brasileiros, e aos estrangeiros na forma da lei, para provimento em caráter efetivo ou em comissão. Qual alternativa que melhor define o que é cargo público?

- (A) O conjunto de cargos de carreiras ou isolados de um órgão ou entidade da administração municipal
- (B) É aquele ocupado por empregado público que pode atuar em entidade privada ou pública da administração indireta
- (C) Conjunto de atribuições, deveres e responsabilidades cometido ao servidor, criado por lei, com denominação própria, número certo e vencimento específico pago pelos cofres públicos
- (D) Conjunto de atribuições destinadas aos agentes públicos, abrangendo a função temporária e a função de confiança
- (E) Cargo ocupado temporariamente por uma pessoa que não faz parte do quadro de funcionários da administração pública

Questão 19

Os Princípios de Contabilidade representam a essência das doutrinas e teorias relativas à Ciência da Contabilidade, consoante o entendimento predominante nos universos científico e profissional. NÃO é princípio da contabilidade a/o:

- (A) Entidade
- (B) Continuidade
- (C) Impessoalidade
- (D) Oportunidade
- (E) Registro pelo valor original

Questão 20

Todos são iguais perante a lei, sem distinção de qualquer natureza, garantindo-se aos brasileiros e aos estrangeiros residentes no País a inviolabilidade do direito à vida, à liberdade, à igualdade, à segurança e à propriedade...

Qual das alternativas a seguir faz parte do artigo 5º, da Constituição Federal de 1988?

- (A) Fundo de garantia do tempo de serviço
- (B) Ninguém será obrigado a fazer ou deixar de fazer alguma coisa senão em virtude de lei
- (C) A dignidade da pessoa humana
- (D) Autodeterminação dos povos
- (E) Construir uma sociedade livre, justa e solidária

INFORMÁTICA BÁSICA

Questão 21

Um ataque cibernético é uma tentativa de danificar ou destruir uma rede ou sistema digital. Pode resultar em uma violação de dados, que é quando dados sensíveis ou confidenciais são manipulados por indivíduos não autorizados. Este tipo de ataque pode assumir a forma de roubo de identidade, vírus, malware, fraude ou extorsão. Analise as seguintes recomendações:

- I - utilize senhas curtas e iguais para todos os serviços online;
- II - não use verificação em duas etapas;
- III - deixe seu sistema operacional atualizado;
- IV - utilize um antivírus e um firewall;
- V - utilize conexões desconhecidas de internet.

Qual/quais da(s) alternativas abaixo contém/contêm somente a(s) proposta(s) correta(s) para evitar um ataque cibernético?

- (A) somente I e II.
- (B) somente II e V.
- (C) somente III e IV.
- (D) somente I e V.
- (E) somente I.

Questão 22

Qual o hardware de interconexão de redes informáticas que possibilita o encaminhamento dos pacotes de dados entre duas ou mais redes a fim de determinar o melhor caminho que eles devem tomar?

- (A) Placa de vídeo
- (B) Processador
- (C) Roteador
- (D) Memória RAM
- (E) Splitter

Questão 23

Em sistemas operacionais Windows, os comandos do Prompt servem para realizar a manutenção do sistema. Eles podem ser muito úteis em situações em que a interface gráfica não está disponível ou para obter informações de maneira rápida e completa. O comando que fornece uma visão geral detalhada da configuração do seu computador (sistema operacional e hardware) é:

- (A) systeminfo.
- (B) driverquery.
- (C) shutdown.
- (D) netstat.
- (E) ping.

Questão 24

Ao realizar um backup o usuário é informado que o tamanho total dos arquivos é de 10 (dez) GIGABYTES. Analise as opções abaixo para o armazenamento deste arquivo de backup:

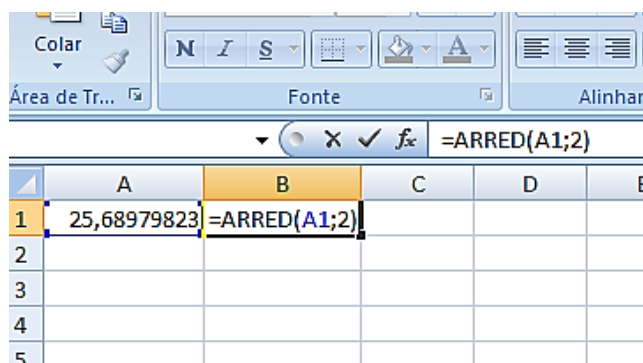
- I - um disquete de 750 kilobytes;
- II - um CD-ROM de 700 megabytes;
- III - um pendrive de 1 gigabyte;
- IV - um disco rígido externo de 1 terabyte;
- V - um cartão de memória de 512 megabytes.

Qual/quais das alternativa(s) abaixo contém/contêm somente o(s) dispositivo(s) com capacidade para armazenar integralmente o backup de 10 GIGABYTES?

- (A) I e V
- (B) II e III
- (C) I, II e III
- (D) III e V
- (E) IV

Questão 25

Observe a imagem abaixo do uso de uma função na Planilha eletrônica MS Excel 2013.



O resultado obtido através do uso desta função no valor contido nesta planilha é:

- (A) 51,38.
- (B) 25,69.
- (C) 20.
- (D) 128,4.
- (E) 0.

Questão 26

As extensões de um arquivo dizem ao computador qual software criou ou pode abrir o mesmo. Ao utilizar o sistema operacional Windows 10 e encontrar o arquivo "exemplo.pptx", podemos dizer que o programa que o criou e que deve ser utilizado para visualizá-lo com todas as suas propriedades corretamente é?

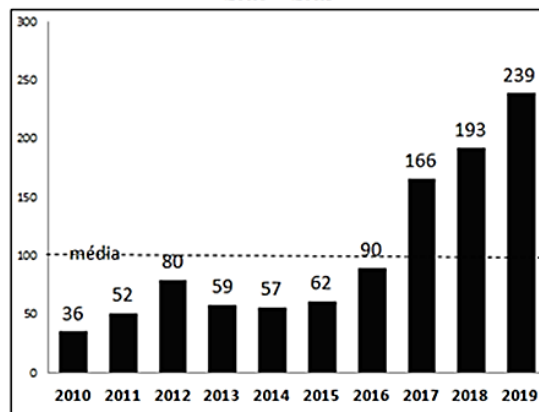
- (A) Visual Basic
- (B) SQL Server
- (C) Cobol
- (D) Microsoft Powerpoint
- (E) SAP ERP

ATUALIDADES

Questão 27

A ANVISA aprovou em 2019 o novo marco regulatório para agrotóxicos. Dos 2.300 agrotóxicos registrados no Brasil, a ANVISA já recebeu dados para reclassificação de 1.981 produtos. Em 2017, 2018 e 2019 houve aumento, acima da média (entre 2010 e 2019) na liberação de agrotóxicos no Brasil.

**LIBERAÇÃO DE AGROTÓXICOS NO BRASIL
2010 - 2019**



Fonte: Greenpeace Brasil 25 de junho de 2019

Agrotóxicos são produtos e agentes de processos físicos, químicos ou biológicos.

Sobre os agrotóxicos no Brasil é correto afirmar que:

- I - são destinados ao uso nos setores de produção, no armazenamento e beneficiamento de produtos agrícolas, nas pastagens, na proteção de florestas, nativas ou plantadas, e de outros ecossistemas e de ambientes urbanos, hídricos e industriais.
- II - tem a finalidade de alterar a composição da flora ou da fauna, a fim de preservá-las da ação danosa de seres vivos considerados nocivos, bem como as substâncias e produtos empregados como desfolhantes, dessecantes, estimuladores e inibidores de crescimento.
- III - sua avaliação de risco, por análise sistematizada, é realizada pelo Ministério de Minas e Energia e pelo Ministério da Agricultura, Pecuária e Abastecimento sob a supervisão do Gabinete de Segurança Institucional da Presidência da República.

Está(ão) correta(s):

- (A) somente I.
- (B) somente II.
- (C) somente III.
- (D) somente I e II.
- (E) somente II e III.

Questão 28

Composta por 16 Senadores e 16 deputados e os suplentes, uma Comissão Parlamentar Mista de Inquérito – CPMI sobre Fake News no processo eleitoral, foi instalada no Congresso Nacional em 04/09/2019.

Sua finalidade é investigar, no prazo de 180 dias:

I - os ataques cibernéticos que atentam contra a democracia e o debate público.

II - a utilização de perfis falsos para influenciar os resultados das eleições 2018.

III - a prática de cyberbullying sobre os usuários mais vulneráveis da rede de computadores, bem como sobre agentes públicos.

IV - o uso de postagens de qualquer conteúdo nas redes sociais nacionais e internacionais.

V - o aliciamento e orientação de crianças para o cometimento de crimes de ódio e suicídio.

Estão corretas:

- (A) somente I, II e III.
- (B) somente II, III e IV.
- (C) somente II, III, IV e V.
- (D) somente I, II, III e IV.
- (E) somente I, II, III e V.

Questão 29

Desde 2015, após o presidente Nicolás Maduro perder as eleições parlamentares, parte da população venezuelana começou a emigrar em maiores números para alguns países da América Latina. Segundo o FGV DAPP, em Roraima, na fronteira do Brasil com a Venezuela, o município de _____, tem recebido grande parte deste fluxo, em meio ao surgimento de conflitos sociais.

Complete a lacuna marcando a alternativa que informe, corretamente, o nome desse município brasileiro.

- (A) Caracara
- (B) Pacaraima
- (C) Uiramutã
- (D) Alto Alegre
- (E) Amajari

Questão 30

O território hoje pertencente ao município de Vila Velha era habitado originalmente pelos índios _____ e _____. Em 1549, estes índios haviam entrado em luta contra os povoadores, queimando engenhos e fazendas. Em busca de refúgio, alguns colonizadores se mudaram para a ilha de Duarte Lemos e para as capitanias vizinhas. Na ilha, a povoação passou a ser chamada de Vila Nova, ao passo que no continente, no correr dos tempos, o núcleo primitivo se tornava conhecido como Vila Velha. Os índios tornaram a atacar. Em 1551, em face das inúmeras dificuldades, o donatário transferiu a sede do governo para a ilha de Vitória, que recebeu o nome de Vila Nova do Espírito Santo, mais tarde de Nossa Senhora da Vitória.

Complete a lacuna marcando a alternativa que informe, corretamente, os nomes dos grupos indígenas.

- (A) Bororó e Carajá
- (B) Timbira e Tupiniquins
- (C) Goitacás e Tupiniquins
- (D) Carajá e Goitacás
- (E) Aimoré e Bororó

CONHECIMENTOS ESPECÍFICOS

Questão 31

As ferramentas de e-marketing (electronic marketing) são importantes para as redes hoteleiras nacionais e internacionais no Brasil no que se refere ao relacionamento com os clientes.

O investimento em e-marketing faz com que a empresa possa alavancar os negócios na Internet e, como consequência:

- I - obter o fortalecimento da marca.
- II - gerar conteúdo e aumentar a credibilidade na interação com o consumidor.
- III - destacar-se em sites de busca.
- IV - garantir sua presença no mercado online.
- V - garantir o primeiro lugar no ranking entre as empresas da área.

Estão corretas:

- (A) somente I e II.
- (B) somente II, III e IV.
- (C) somente I, II III e IV.
- (D) somente II, III, IV e V.
- (E) somente I, III, IV e V.

Questão 32

No que se refere à hierarquização de atrativos turísticos, deve-se avaliar o potencial de atratividade do elemento, conforme as características de peculiaridade e o interesse que pode despertar nos turistas.

Analisar o quadro.

Quadro de desenvolvimento do potencial de um atrativo turístico

HIERARQUIA	CARACTERÍSTICAS
a	Atrativos com aspectos excepcionais em um país, capazes de motivar uma corrente atual ou potencial de visitantes deste país ou estrangeiros, em conjunto com outros atrativos próximos a este.
b	Atrativos sem méritos suficientes, mas que são parte do patrimônio turístico como elementos que podem complementar outros de maior hierarquia. Podem motivar correntes turísticas locais, em particular a demanda de recreação popular.
c	Atrativos com algum aspecto expressivo, capazes de interessar visitantes oriundos de lugares no próprio país, que tenham chegado à área por outras motivações turísticas, ou capazes de motivar fluxos turísticos regionais e locais (atuais e potenciais).
d	Atrativos turísticos excepcionais e de grande interesse, com significação para o mercado turístico internacional, capaz de, por si só, motivar importantes correntes de visitantes, atuais e potenciais.

Escolha a alternativa que, segundo indicada pela Organização Mundial do Turismo (OMT) e pelo Centro Interamericano de Capacitação Turística (CICATUR), define a hierarquização, considerando os graus 3 (alto); 2 (médio), 1 (baixo) e 0 (nenhum).

- (A) a) 1; b) 3; c) 2; d) 0
- (B) a) 1; b) 0; c) 2; d) 3
- (C) a) 0; b) 1; c) 2; d) 3
- (D) a) 2; b) 0; c) 1; d) 3
- (E) a) 3; b) 1; c) 0; d) 2

Questão 33

Em 1972, PLOG (apud Murphy 1985) criou uma classificação de tipos de turistas chamada de modelo cognitivo – normativo. Os tipos de turistas são:

- (A) aloccêntricos, mesocêntricos e psicocêntricos.
- (B) existenciais, experimentais e experienciais.
- (C) diversionários, recreacionários e exploradores.
- (D) existenciais, experimentais e recreacionários.
- (E) telocêntricos, metacêntricos e psicocêntricos.

Questão 34

Ficou conhecido como o pai do turismo moderno:

- (A) Thomas Bennett.
- (B) George Pullman.
- (C) Thomas Cook.
- (D) Cesar Ritz.
- (E) Willian Fargo.

Questão 35

Entre as alternativas abaixo qual delas NÃO indica um ponto turístico em Vila Velha.

- (A) Morro do Moreno.
- (B) Igreja de Nossa Senhora do Rosário.
- (C) Convento São Francisco.
- (D) Farol de Santa Luzia.
- (E) Gruta do Frei Pedro Palácios.

Questão 36

O termo CLUSTER, numa definição genérica, se refere a:

- (A) um grupo de atividades pertencentes a diferentes setores ou a setores conexos que se desenvolvem paralelamente.
- (B) um grupo de atividades pertencente a setores conexos que se desenvolvem isoladamente.
- (C) um grupo de atividades pertencentes a um mesmo setor ou setores diferentes que se desenvolvem de forma conexa.
- (D) um grupo de atividades pertencentes a um mesmo setor ou setores conexos que se desenvolvem em conjunto.
- (E) um grupo de atividades desconexas que se desenvolvem em conjunto.

Questão 37

A primeira Conferência das Nações Unidas sobre o Meio Ambiente ocorreu em 1972. Esta foi, sem dúvida, a primeira conferência mundial que teve por objetivo tentar “organizar” as relações do homem com o meio ambiente e onde foram enunciados um conjunto de princípios que denunciava a responsabilidade do desenvolvimento pela deterioração ambiental, resultando no estabelecimento da base teórica para o conceito de desenvolvimento sustentável (Silvano, 2006).

Onde ocorreu esta primeira conferência?

- (A) Beirute
- (B) Viena
- (C) Davos
- (D) Estocolmo
- (E) Nova Iorque

Questão 38

Coles e Timothy (2004 apud PINHO, 2018) definiram o conceito de turismo diaspórico como “um tipo de turismo prioritariamente produzido, consumido e vivenciado por comunidades diaspóricas”. Sendo assim, o turismo diaspórico tem por objetivo levantar a discussão do resgate da identidade do turista, tanto de parentesco quanto na cultura, de algo que foi interrompido pela perda das suas raízes.

Segundo Patricia (2018), o turismo de raízes pode ser entendido como um subtipo de turismo diaspórico, ele acontece quando o indivíduo busca a reconstrução de sua identidade que foi interrompida, nesse sentido, ele viaja em busca de sua memória perdida em lugares em que possa se sentir representado.

Assinale a alternativa abaixo que representa O CONTRÁRIO do turismo de raízes.

- (A) Turismo Cultural
- (B) Turismo Étnico
- (C) Turismo Afrocentrado
- (D) Turismo Ecológico
- (E) Turismo Religioso

Questão 39

Somente a partir do começo da década de 1970, que o pensamento sistêmico começa a ser introduzido nos estudos do turismo (Herrera, 2013). Acerenza (2002), no entanto, aponta o mexicano Raimundo Cuervo como pioneiro nesta abordagem sistêmica através do ensaio “El turismo como médio de comunicación humana”, publicado em 1967. Este trabalho, no entanto não foi muito disseminado. O egípcio Salah Eldin Abdel Wahab foi outro autor que durante essa época introduziu a concepção de sistema na análise do turismo, na sua obra “Introdução à administração do turismo” (Panosso Netto, 2005). No entanto, somente em 1979, com o trabalho de um australiano denominado “The Framework of tourism: towards a definition of tourism, tourist, and the tourist industry”, publicado na Annals of Tourism Research, é que a Teoria Geral dos Sistemas é efetivamente introduzida nos estudos do turismo. Na referida obra, o autor propõe um modelo conceitual e gráfico para o sistema turístico (Acerenza, 2002; Panosso Netto, 2005; Herrera, 2013).

Qual o nome deste australiano?

- (A) John Stillwell
- (B) Leon Simon
- (C) Neil Leiper
- (D) Dany Calegari
- (E) Ian Sloan

Questão 40

A Ecologia é a parte da Biologia que estuda as relações dos seres vivos entre si e destes com o meio. O termo vem da junção de duas palavras gregas: Oikos, que significa casa, e logos, que quer dizer estudo. Assim sendo, ecologia significa o “estudo da casa” ou o “estudo do habitat dos seres vivos”.

O termo Ecologia foi criador por:

- (A) Carl Borsch.
- (B) Ernest Haeckel.
- (C) Heinrich Hertz.
- (D) Otto Loewi.
- (E) Hans Busch.

Questão 41

Como é chamada uma extensa área natural destinada à proteção e conservação dos atributos bióticos (fauna e flora), estéticos ou culturais ali existentes, importantes para a qualidade de vida da população local e para a proteção dos ecossistemas regionais?

- (A) MONA – Monumento Natural
- (B) ARIE – Área de Relevante Interesse Ecológico
- (C) ESEC – Estação Ecológica
- (D) APA – Área de Proteção Ambiental
- (E) ZEE – Zona Econômica Exclusiva

Questão 42

O exercício da atividade turística provoca impactos ambientais positivos e negativos, envolvendo o ambiente natural, o ambiente transformado e o ambiente sociocultural. No entanto, o ambiente natural é mais vulnerável aos impactos ambientais negativos do turismo.

Qual das alternativas abaixo NÃO representa um impacto ambiental negativo?

- (A) Poluição atmosférica, visual e sonora
- (B) Compactação, erosão e perda de fertilidade do solo
- (C) Choques culturais
- (D) Desmatamento
- (E) Intercâmbio intercultural

Questão 43

As opiniões e divergências sobre o assunto são muitas, porém é importante não banalizar a relação dos turistas e moradores, sobre isto expõe-se o índice de irritabilidade de Doxey, (DIAS 2003, p. 102), em que buscou descrever a evolução gradativa dos sentimentos da população receptora na sua relação com os turistas.

Assinale a alternativa que NÃO pertence aos estágios descritos por Doxey.

- (A) Simpatia
- (B) Antagonismo
- (C) Irritação
- (D) Euforia
- (E) Apatia

Questão 44

O produto turístico decorre do conjunto de bens e serviços unidos por relações de interação e interdependência, que o tornam complexo, ou seja, numa ótica funcional o produto turístico compreende entidades com responsabilidades na gestão dos recursos públicos (praias, florestas, museus, monumentos, castelos), empresas turísticas (hotéis, transportes, agências de viagens, restaurantes, operadores turísticos), entidades com responsabilidades na gestão das infraestruturas (estradas, aeroportos, serviços de saneamento, serviços de limpeza) e empresas complementares (parques temáticos, cinemas, casinos, instalações desportivas e/ou culturais). Exposto isto, o conjunto de bens e serviços organizados pelo setor público e setor privado podem ser adquiridos pelo consumidor por um valor estabelecido num lugar concreto e num determinado momento.

Assinale a alternativa que indica uma característica do produto turístico.

- (A) Dinâmico
- (B) Tangível
- (C) Concreto
- (D) Percível
- (E) Modular

Questão 45

Relacione os tipos de turismo com suas respectivas definições e assinale a alternativa que indica a sequência correta.

- 1 - Turismo Rural
- 2 - Turismo de Massa
- 3 - Turismo de Incentivo
- 4 - Turismo Cultural
- 5 - Turismo Ecológico

() uma ferramenta empresarial utilizada por instituições particulares ou organizações públicas, com o objetivo de motivar ou premiar funcionários ou equipes quando metas de produção ou qualidade são atingidas por eles.

() designa uma modalidade de turismo cuja motivação do deslocamento se dá com o objetivo de encontros artísticos, científicos, de formação e de informação.

() também chamado turismo de sol e praia.

() uma forma de turismo voltada para a apreciação de ecossistemas em seu estado natural, com sua vida selvagem e sua população nativa intactos.

() uma modalidade do turismo que tem por objetivo apresentar como atração as plantações e culturas em áreas onde as mesmas, porventura, sirvam de referência internacional no chamado agronegócio.

- (A) 4 – 3 – 2 – 5 - 1
- (B) 2 – 3 – 4 – 5 – 1
- (C) 5 – 2 – 4 – 3 - 1
- (D) 4 – 3 – 5 – 2 – 1
- (E) 3 – 4 – 2 – 5 - 1

Questão 46

Relacione os diferentes conceitos com suas respectivas definições e assinale a alternativa que indica a sequência correta.

- 1 - Visitante
- 2 - Excursionista
- 3 - Turista

() todo o indivíduo que em sua viagem permanece um tempo inferior a 24 horas fora do local em que residência, mas sem pernoitar. Com a finalidade de recreio, esporte, saúde, motivos familiares, estudos, peregrinação religiosa ou negócio.

() toda pessoa que entra em um território contratante diferente do local de residência, com um prazo superior a 24 horas e inferior a 12 meses com o objetivo de lazer, esporte, saúde, motivos familiares, estudos, peregrinação religiosa ou negócio.

() são as pessoas que se deslocam para um lugar diferente de onde mora. O tempo de permanência deve ser inferior a 12 meses.

- (A) 2 – 3 – 1
- (B) 1 – 3 – 2
- (C) 2 – 1 - 3
- (D) 1 – 2 - 3
- (E) 3 – 2 - 1

Questão 47

Uma atração turística (também chamado de atrativo turístico ou ponto turístico) é um lugar de interesse que os turistas visitam, geralmente por seu valor cultural inerente ou exibido, importância histórica, beleza natural ou artificial, originalidade, porque é raro, misterioso, ou para recreação e diversão. Os atrativos culturais podem ser materiais ou imateriais.

Trata-se de um atrativo cultural imaterial o/a:

- (A) Museu.
- (B) Galeria de Arte.
- (C) Parque Nacional.
- (D) Jardim Botânico.
- (E) Círio de Nossa Senhora de Nazaré.

Questão 48

Existindo concordância mundial, relativamente ao facto de ser necessário promover um desenvolvimento sustentável do turismo, também existe concordância no entendimento de que o turismo, para se poder desenvolver de uma forma sustentável, tem de se afirmar em quatro pilares fundamentais.

Assinale a alternativa CORRETA:

- (A) sustentabilidade ambiental , social, política e religiosa
- (B) sustentabilidade cultural, política, ambiental e econômica
- (C) sustentabilidade ambiental, econômica, social e política
- (D) sustentabilidade religiosa, cultural, ecológica e política
- (E) sustentabilidade ambiental, política, cultural e social

Questão 49

O turismo de forma sustentável deve ser desenvolvido por todos, pois o não atendimento a essa nova realidade fará com que muitos destinos e empreendimentos estejam condenados economicamente, tendo em vista que perderão sua atratividade, em virtude dos impactos negativos causados pelo seu empreendimento.

A modalidade de turismo que é considerada mais sustentável é a:

- (A) Turismo de Massa
- (B) Turismo Ecológico
- (C) Turismo Cultural
- (D) Turismo Religioso
- (E) Turismo de Formação

Questão 50

Turismologia é a ciência centralizada no estudo do turismo. Ela se preocupa em conhecer e estudar o turismo em sua totalidade. Relaciona-se com as ciências sociais e as ciências econômicas, e surgiu para que os componentes do turismo não fossem estudados isoladamente.

O termo Turismologia foi criado por:

- (A) Alberto Sessa.
- (B) Zivadin Jovicic.
- (C) Jean-Michel Hoerner.
- (D) Umberto Fragola.
- (E) Pierre Defert.

DISCURSIVA

Você deverá escolher umas das propostas para fazer a sua Prova Discursiva.

Questão 1

Proposta 1

CONSTITUIÇÃO FEDERAL / 1988.

A REPÚBLICA FEDERATIVA DO BRASIL, FORMADA PELA UNIÃO INDISSOLÚVEL DOS ESTADOS E MUNICÍPIOS E DO DISTRITO FEDERAL, CONSTITUI-SE EM ESTADO DEMOCRÁTICO DE DIREITO E TEM COMO FUNDAMENTOS:

- I - a soberania;
- II - a cidadania;
- III - a dignidade da pessoa humana;
- IV - os valores sociais do trabalho e da livre iniciativa;
- V - o pluralismo político.

Produza um texto dissertativo sobre os 5 (cinco) fundamentos aqui citados.

Proposta 2

A LEI ORGÂNICA 1/ 1990 - DO MUNICÍPIO DE VILA VELHA, TRATA DE DIVERSOS TEMAS DE INTERESSE DA POPULAÇÃO DO MUNICÍPIO, DENTRE OS QUAIS TEMOS A FIGURA DOS AGENTES MUNICIPAIS.

Produza um texto dissertativo sobre os Agentes da Guarda Municipal e sobre a Secretaria de Obras do Município de Vila Velha.

Complemente o seu texto apresentando exemplos.

- ✓ No desenvolvimento da proposta escolhida, utilize os conhecimentos adquiridos ao longo de sua formação, além de informações adquiridas.
- ✓ Seu texto deve ser redigido na modalidade padrão da Língua Portuguesa.
- ✓ O texto deve ter entre 25 e 30 linhas.

FOLHA DE RASCUNHO

1 _____

2 _____

3 _____

4 _____

5 _____

6 _____

7 _____

8 _____

9 _____

10 _____

11 _____

12 _____

13 _____

14 _____

15 _____

16 _____

17 _____

18 _____

19 _____

20 _____

21 _____

22 _____

23 _____

24 _____

25 _____

26 _____

27 _____

28 _____

29 _____

30 _____

RASCUNHO