


## PREFEITURA DE VILA VELHA/ES - QUADRO TÉCNICO ADMINISTRATIVO

### ARQUITETO

Código da Prova

**S10 Y**  
TARDE

 Verifique se o Código da Prova é o mesmo do seu cartão de respostas.

 Duração da prova: **4 horas**

---

**TRANSCREVA, EM ESPAÇO DETERMINADO NO SEU CARTÃO DE RESPOSTAS,  
A FRASE ABAIXO PARA O EXAME GRAFOTÉCNICO:**

**”O planejamento de longo prazo não lida com as decisões futuras,  
mas com o futuro de decisões presentes”. (Peter Drucker)**



### ATENÇÃO

Este caderno contém (cinquenta) questões de múltipla escolha, cada uma com 05 (cinco) alternativas de resposta – A, B, C, D e E – e uma questão discursiva.

**Verifique se este material está em ordem. Caso contrário, notifique imediatamente o fiscal.  
O tempo de duração da prova inclui o preenchimento do cartão de respostas e folha de resposta.**

---

LEIA AS INSTRUÇÕES ABAIXO:

Siga, atentamente, as formas corretas de preenchimento do cartão de respostas e da folha de respostas, conforme estabelecido nos próprios.

Por motivo de segurança:

- O candidato só poderá retirar-se definitivamente da sala após 1 (uma) hora do início efetivo da prova.
- Somente faltando 1 (uma) hora para o término da prova, o candidato poderá retirar-se levando o seu caderno de questões.
- O candidato que optar por se retirar sem levar o seu caderno de questões não poderá copiar suas respostas por qualquer meio.
- Ao terminar a prova, o candidato deverá se retirar imediatamente do local da prova, não sendo possível nem mesmo a utilização dos banheiros e/ou bebedouros.

Candidato, ao terminar a prova, é de sua responsabilidade entregar ao fiscal o cartão de respostas da Prova Objetiva assinado e a folha de resposta desidentificada. Não se esqueça dos seus pertences.

Os três últimos candidatos deverão permanecer na sala até que o último candidato entregue o cartão de respostas e a folha de resposta. O fiscal de sala não está autorizado a alterar quaisquer dessas instruções. Em caso de dúvida, solicite a presença do coordenador local.

**BOA PROVA!**

---

## LÍNGUA PORTUGUESA

### Questão 1

Assinale a alternativa cuja redação atende aos requisitos de coesão, coerência textual e ortografia da norma culta da língua portuguesa.

- (A) Não foi por acaso que a casa caiu: o veículo em alta velocidade se chocou com a parede e infringiu dano estrutural à construção. Sorte que não havia ninguém ali naquele momento.
- (B) Todos prenderam a respiração por um segundo quando ela lhes informou a novidade: àquela altura, a vultuosa soma de riquezas que achavam ter encontrado já não passava de sucata.
- (C) Dirigiu-se ao Paço Imperial e entregou uma bela cesta de pães ao senescal. Era uma taxa pequena a se pagar por uma audiência secreta com a estrela ascendente da corte nesta colônia.
- (D) Espingarda a tiracolo, o homem seguia o sabujo em busca de sua presa. Como não era possível laçá-lo à cavalo entre as árvores, restava-lhe cassar o animal de modo mais tradicional: chão, cão e chumbo.
- (E) “Não serei o bode espiatório neste escândalo, está me entendendo?”, gritou o velho empresário. E continuou, antes de sair: “Sou um gerador de empregos!”. Decerto esqueceu-se de mencionar que, além disso, era também sonegador contumaz e inveterado.

### Questão 2

Advérbio é a classe gramatical das palavras que indicam circunstâncias e, com isso, contextualiza o nosso entendimento do que está se querendo expressar ao usar verbos, advérbios ou de adjetivos. Assinale a alternativa cuja frase utiliza o advérbio que corresponde corretamente à classificação que a acompanha.

- (A) Ele é bastante discreto. Advérbio de modo.
- (B) Não sei o que isso quer dizer. Advérbio de dúvida.
- (C) Fez o exercício apressadamente. Advérbio de intensidade.
- (D) Sempre teremos uns aos outros. Advérbio de tempo.
- (E) Chegou esbaforido e nos contou as boas novas. Advérbio de afirmação.

### Questão 3

Dentre as alternativas a seguir, aquela que apresenta ao menos uma frase em discurso indireto é:

- (A) Não havia mais alternativa para eles. Haviam se amado com a mesma intensidade com a qual agora se repeliam. Outrora irmãos na luz, ali, não mais: eram apenas inimigos em meio a fogo.
- (B) Sentou-se na escadaria diante de seu jovem amigo e lhe explicou tópicos de ética, mortalidade e até mesmo religião. Chegou até mesmo a lhe perguntar quem é que poderia saber do dia de amanhã. Tudo isso para salvar o rapagote de sua própria fúria.
- (C) A mulher sabia que lealdade não era algo a se encontrar em qualquer lugar, mas que sempre havia quem estivesse disposto a vender seus serviços. Encontrar bons aliados tratar-se-ia, portanto, menos de valores morais do que de monetários. Contudo, lembrou-se: “sempre pague suas dívidas”, como alertava-lhe o velho.
- (D) “As máquinas um dia irão reger as nossas vidas”, disse a moça. Sua mãe não achava graça. “Quem vai querer se casar com uma mulher que vive com a cabeça na lua?”, perguntou retoricamente. A filha, de pronto, respondeu: “Alguém que não queira que sua esposa fique o dia inteiro na tecelagem. E, de mais a mais, nem sei se quero me casar. Parece-me que dá muito trabalho”.
- (E) Frente à frente, no canto do luxuoso salão de festas, os velhos amigos se observavam. Um deles pensava no que dizer para remediar a situação, para tentar convencer seu sócio a desistir de sua empreitada fadada a fracassar. O outro, por sua vez, pensava em como acalmar os presságios agourentos de seu velho companheiro. Demorou até que um deles falasse qualquer coisa.

### Questão 4

Apresenta verbo transitivo direto e indireto a seguinte alternativa:

- (A) Fez muito sol ontem de manhã.
- (B) Corri de tênis no parque.
- (C) Não faça perguntas tolas à sua tia, garoto.
- (D) O abdômen possui um conjunto de músculos de grande importância.
- (E) Não adianta pedir um tempo ao tempo.

Leia o texto e responda as questões 5 e 6.

“Muitas vezes menos mortais do que as epidemias, porém mais frequentes, as sedições de toda natureza marcavam com súbita violência os tempos fortes de uma inquietude coletiva que, entre as explosões, permanecia silenciosa, até mesmo subterrânea. (...) Pode-se então falar, na civilização da Europa pré-industrial, com a condição de não tomar a expressão ao pé da letra, de uma ‘cotidianidade da revolta’”.

(DELUMEAU, Jean. História do Medo no Ocidente. São Paulo: Companhia das Letras, 2009)

### Questão 5

Assinale a alternativa a seguir na qual o trecho destacado extraído do texto é classificado como um aposto quanto à sua função sintática.

- (A) “Pode-se então falar, na civilização da (...)”.
- (B) “(...) explosões, permanecia silenciosa, até mesmo (...)”.
- (C) “Muitas vezes menos mortais do que as epidemias, porém mais frequentes, as sedições (...)”.
- (D) “(...) pé da letra, de uma ‘cotidianidade da revolta’”.
- (E) “(...) frequentes, as sedições de toda natureza marcavam com súbita violência os tempos fortes de uma inquietude coletiva que (...)”.

### Questão 6

Considere as seguintes afirmações:

I - O texto poderia ser reorganizado da seguinte forma, sem perda de sentido: “As sedições de toda natureza marcavam com súbita violência os tempos fortes de uma inquietude coletiva que permanecia silenciosa ou subterrânea a não ser nos momentos de explosão. Elas eram menos mortais do que as ondas de epidemia, mas eram mais frequentes. (...) Pode-se então falar que as revoltas ocorriam cotidianamente durante a época da civilização da Europa pré-industrial, ainda que não se possa levar esta frase ao pé da letra”.

II - A oração “as sedições de toda natureza marcavam com súbita violência os tempos fortes de uma inquietude coletiva” e a oração “que (...) permanecia silenciosa (...)” possuem uma relação de subordinação adjetiva entre si, sendo a primeira a oração principal e a segunda, um termo integrante.

III - O texto fala sobre como, durante o período anterior à Era Industrial, a Europa passou por um período repleto de revoltas e de doenças, sendo que essas ocorriam com maior frequência que aquelas.

Assinale a alternativa que indica as afirmações corretas sobre o texto supramencionado.

- (A) somente I
- (B) somente I e III
- (C) somente II e III
- (D) somente I e II
- (E) I, II e III

Leia o texto a seguir e responda as questões 7 e 8.

“A universidade esperava-me com as suas matérias árduas; estudei-as muito mediocrementemente, e nem por isso perdi o grau de bacharel; deram-mo com a solenidade do estilo, após os anos da lei; uma bela festa que me encheu de orgulho e de saudades - principalmente de saudades. Tinha eu conquistado em Coimbra uma grande nomeada de folião; era um acadêmico estróina<sup>1</sup>, superficial, tumultuário e petulante, dado às aventuras, fazendo romantismo prático e liberalismo teórico, vivendo na pura fé dos olhos pretos e das constituições escritas. No dia em que a universidade me atestou, em pergaminho, uma ciência que eu estava longe de trazer arraigada no cérebro, confesso que me achei de algum modo logrado, ainda que orgulhoso. Explico-me: o diploma era uma carta de alforria; se me dava a liberdade, dava-me a responsabilidade. Guardei-o, deixei as margens do Mondego, e vim por ali fora assaz desconsolado, mas sentindo já uns ímpetos, uma curiosidade, um desejo de acotovelar os outros, de influir, de gozar, de viver - de prolongar a universidade pela vida adiante...”

<sup>1</sup>Estróina = Irresponsável

(ASSIS, Machado de. Memórias Póstumas de Brás Cubas. São Paulo: Saraiva, 2011)

### Questão 7

Quando Machado de Assis escreveu este texto, utilizou de linguagem simples e coloquial à época, pois sua intenção não era produzir uma forma de literatura exclusiva, mas, sim, acessível. Não obstante, com o passar do tempo, o linguajar utilizado pelo autor hoje parece muito mais formal e rebuscado do que aquele que se costuma utilizar nos textos contemporâneos. Ainda assim, mesmo que alguns termos nos pareçam estranhos, esta obra do século XIX nos é até hoje compreensível, bastando que tenhamos algum domínio da norma culta.

Tendo isto em vista, assinale a alternativa abaixo que resume o texto de maneira mais apropriada.

- (A) Este texto foca nas experiências da juventude do narrador, versando sobre romances, libertinagem e o início de sua carreira profissional de diplomata na Europa Oriental.
- (B) Neste texto, o narrador nos diz que, apesar de ter sido um ótimo aluno, não recebeu qualquer reconhecimento acadêmico pelos seus pares na Europa senão enquanto boêmio.
- (C) Este texto versa sobre os anos em que o narrador esteve estudando em seu exílio em Portugal, relatando que a tristeza pelas dificuldades financeiras só desaparecia quando participava de festas.

- (D) Vivendo a vida universitária intensamente, o narrador nos mostra que esteve profundamente envolvido com a política acadêmica e foca nas explicações do mesmo acerca do que chamou de “romantismo prático” e “liberalismo teórico”.
- (E) Neste texto, o narrador fala sobre sua performance na universidade e pondera saudosamente o aproveitamento que teve de sua vida universitária, concluindo, por fim, que gostaria que o restante de sua existência fosse como uma continuidade daquela época.

### Questão 8

Observe a seguinte frase expressa no texto:

“Explico-me: o diploma era uma carta de alforria; se me dava a liberdade, dava-me a responsabilidade”.

Tendo em mente que carta de alforria era o documento que libertava um escravo de sua condição durante o período anterior à abolição, é correto afirmar que, neste trecho, o autor se utiliza de:

- (A) metáfora, comparando “diploma” e “carta de alforria” pelo que possuem em comum.
- (B) metonímia, pois substitui o termo “diploma” pelo termo “carta de alforria”, dada a semelhança e contiguidade entre eles.
- (C) antítese, pois “diploma” e “carta de alforria” expressam palavras contrárias.
- (D) comparação, ponderando as semelhanças entre diploma e carta de alforria.
- (E) sarcasmo, substituindo um termo por seu completo oposto.

**Questão 9**

Observe o texto a seguir:

“Começo observando que em comparação a eras passadas chegamos a um máximo de racionalidade técnica e de domínio sobre a natureza. Isso permite imaginar a possibilidade de resolver grande número de problemas materiais do homem, quem sabe inclusive o da alimentação. No entanto, a irracionalidade (a) do comportamento é também máxima, servida frequentemente pelos mesmos meios que deveriam realizar os desígnios da racionalidade. Assim, com a energia atômica (b) podemos ao mesmo tempo gerar força criadora e destruir a vida pela guerra; com o incrível progresso industrial aumentamos o conforto até alcançar níveis nunca sonhados, mas excluimos (c) dele as grandes massas que condenamos à miséria; em certos países, como o Brasil (d), quanto mais cresce a riqueza, mais aumenta a péssima distribuição dos bens. Portanto, podemos dizer que os mesmos meios que permitem o progresso podem provocar a degradação da maioria (e)”.

(CANDIDO, Antonio. “O Direito à Literatura” in: Vários Escritos. São Paulo: Duas Cidades, 1995)

Indique a alternativa que identifica corretamente as funções morfossintáticas de termos sublinhados no texto acima.

- (A) Análise morfológica: “a” = artigo definido feminino singular/ “irracionalidade” = adjetivo abstrato  
Análise sintática: “a irracionalidade” = sujeito simples
- (B) Análise morfológica: “energia” = substantivo concreto singular feminino/ “atômica” = adjetivo simples singular e biforme  
Análise sintática: “energia atômica” = sujeito simples
- (C) Análise morfológica: “excluimos” = verbo no pretérito imperfeito do indicativo na terceira pessoa do plural  
Análise sintática: “excluimos” = verbo transitivo direto e indireto
- (D) Análise morfológica: “como” = palavra explicativa / “o” = artigo definido masculino singular / “Brasil” = substantivo próprio masculino  
Análise sintática: “como o Brasil” = aposto explicativo
- (E) Análise sintática: “da” = junção de preposição e artigo feminino singular/ “maioria” = substantivo concreto singular feminino  
Análise morfológica: “da maioria” = objeto indireto

**Questão 10**

Observe as frases a seguir e identifique aquela que se adequa corretamente à norma culta.

- (A) A cerca de três anos, Marinho e os outros chegaram à cidade.
- (B) Desde o ocorrido, já há alguns meses, ela não quis mais falar com sua irmã, tão pouco vê-la junto de seu marido.
- (C) O acidente ocorreu há cerca de dois quilômetros daqui, anos atrás.
- (D) A apresentação à cerca do tema não satisfaz os critérios do professor, à despeito do que os alunos pensavam.
- (E) Falou-se muito a respeito disso naquele dia, mas há pouco o que possamos fazer quanto a isso agora.

## RACIOCÍNIO LÓGICO QUANTITATIVO

### Questão 11

Qual a proposição é INCORRETA?

- (A) São Paulo faz fronteira com o Amazonas ou São Paulo faz fronteira com o Rio de Janeiro
- (B) Rio de Janeiro faz fronteira com Minas Gerais e sua capital é Rio de Janeiro
- (C) Belém a capital do Pará e fica na região Nordeste
- (D) O Clube do Remo fica em Belém do Pará ou em Manaus
- (E) A capital do Espírito Santo é Vitória ou Colatina.

### Questão 12

O óleo do motor de um carro de passageiros deve ser trocado a cada 10.000 Km. Qual a alternativa INCORRETA?

- (A) Posso viajar com a família em férias sem trocar o óleo ou faço a troca antes da viagem
- (B) Faço a troca de óleo antes de viajar e com o óleo recomendado pela fábrica
- (C) Qualquer óleo serve ou não posso viajar com segurança
- (D) Trocar de óleo pelo recomendado é caro e não faz diferença nenhuma
- (E) Melhor trocar óleo e viajar com tranquilidade

### Questão 13

Se a dúzia de bananas custa R\$ 12,00 e a de laranjas R\$ 10,00, com R\$ 45,00 qual a alternativa INCORRETA?

- (A) 2 dúzias de cada ou 4 dúzias de bananas
- (B) 1 dúzia de bananas e 3 dúzias de laranjas
- (C) 4 dúzias de bananas ou 4 dúzias de laranjas
- (D) 45 bananas e 54 laranjas
- (E) 1 dúzia de bananas e 2 dúzias de laranjas

### Questão 14

Aeroportos regionais (aviação executiva)	distancia rodoviaria até Vitória [Km]	distancia em linha reta até Vitória [Km]	de viagem rodoviaria até Vitória	de média rodoviaria até Vitória	Tempo de Voo [minutos]
São Mateus	216	184	191	67,9	43,0
Linhares	134	106	120	67,0	37,0
Colatina	134	91,3	124	64,8	36,0
Guarapari	55,4	45,1	58	57,3	33,0
Cachoeiro de Itapemirim	137	103	144	57,1	37,0

Considerando a tabela acima, qual a proposição INCORRETA:

- (A) Colatina tem a estrada com traçado mais complicado até Vitória
- (B) As estradas para São Mateus e Guarapari s mais bem traçadas
- (C) A estrada para São Mateus além de ter a maior distância até Vitória tem um dos traçados melhores
- (D) O voo de Cachoeiro de Itapemirim encurta o tempo de viagem para Vitória em quase 4 vezes o tempo gasto por rodovia
- (E) Ir de Guarapari para Vitória de avião tem o melhor benefício que para os outros aeroportos citados na tabela.

### Questão 15

Considerando que a pandemia da Gripe Espanhola vitimou entre 50 a 100 milhões de pessoas entre 1918 e 1919 qual a alternativa correta?

- (A) Entre 1 milhão e 2 milhões de pessoas morreram todos os meses
- (B) O vírus foi transmitido por água contaminada
- (C) O vírus infectava os pulmões e era passado por secreções passadas por contato e aerosol dos espirros para outras pessoas
- (D) Os casos se propagaram originados em proporção geométrica a partir de 2 casos com uma razão  $(q) = 2$
- (E) Os casos se propagaram originados em proporção geométrica a partir de 10 casos com uma razão  $(q) = 1,05$

## CONHECIMENTOS DE GESTÃO DA QUALIDADE E ADMINISTRAÇÃO PÚBLICA

### Questão 16

Todos são iguais perante a lei, sem distinção de qualquer natureza, garantindo-se aos brasileiros e aos estrangeiros residentes no País a inviolabilidade do direito à vida, à liberdade, à igualdade, à segurança e à propriedade...

Qual das alternativas a seguir faz parte do artigo 5º, da Constituição Federal de 1988?

- (A) Fundo de garantia do tempo de serviço
- (B) Ninguém será obrigado a fazer ou deixar de fazer alguma coisa senão em virtude de lei
- (C) A dignidade da pessoa humana
- (D) Autodeterminação dos povos
- (E) Construir uma sociedade livre, justa e solidária

### Questão 17

Os Princípios de Contabilidade representam a essência das doutrinas e teorias relativas à Ciência da Contabilidade, consoante o entendimento predominante nos universos científico e profissional. NÃO é princípio da contabilidade a/o:

- (A) Entidade
- (B) Continuidade
- (C) Impessoalidade
- (D) Oportunidade
- (E) Registro pelo valor original

### Questão 18

Tendo como objeto o patrimônio público, a Contabilidade aplicada ao Setor Público tem como objetivo:

- (A) a soma, agregação ou divisão de patrimônio de uma ou mais entidades do setor público resultará em novas unidades contábeis.
- (B) fornecer aos usuários informações sobre os resultados alcançados e os aspectos de natureza orçamentária, financeira e econômica.
- (C) o que se entende por balanço patrimonial.
- (D) os Princípios de Contabilidade e as normas contábeis direcionados ao controle patrimonial de entidades do setor público.
- (E) prestação de contas e à instrumentalização do controle social.

### Questão 19

Os cargos públicos são acessíveis a todos os brasileiros, e aos estrangeiros na forma da lei, para provimento em caráter efetivo ou em comissão. Qual alternativa que melhor define o que é cargo público?

- (A) O conjunto de cargos de carreiras ou isolados de um órgão ou entidade da administração municipal
- (B) É aquele ocupado por empregado público que pode atuar em entidade privada ou pública da administração indireta
- (C) Conjunto de atribuições, deveres e responsabilidades cometido ao servidor, criado por lei, com denominação própria, número certo e vencimento específico pago pelos cofres públicos
- (D) Conjunto de atribuições destinadas aos agentes públicos, abrangendo a função temporária e a função de confiança
- (E) Cargo ocupado temporariamente por uma pessoa que não faz parte do quadro de funcionários da administração pública

### Questão 20

Sobre o ciclo PDCA, o que é correto afirmar?

- (A) É um método iterativo de gestão de quatro passos, utilizado para o controle e melhoria contínua de processos e produtos
- (B) Foi criado no Brasil especialmente para gestão no serviço público
- (C) Não tem aplicação prática no âmbito da administração pública, já que foi criado para gestão empresarial
- (D) Tem por suas iniciais as palavras (P)proceder, (D)distribuir, (C)contratar e (A)atuar
- (E) O ciclo PDCA ficou conhecido a partir da década de 1930, apesar de ser do final do século XVIII.

## INFORMÁTICA BÁSICA

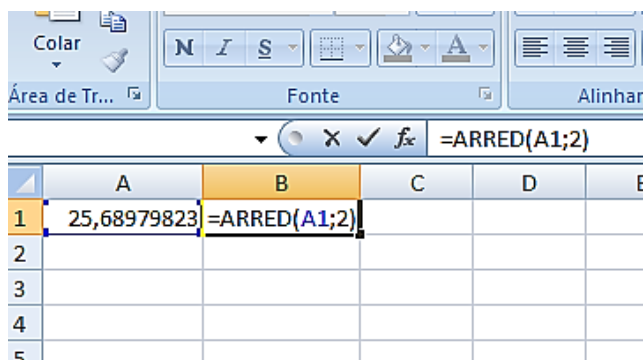
### Questão 21

Qual o hardware de interconexão de redes informáticas que possibilita o encaminhamento dos pacotes de dados entre duas ou mais redes a fim de determinar o melhor caminho que eles devem tomar?

- (A) Placa de vídeo
- (B) Processador
- (C) Roteador
- (D) Memória RAM
- (E) Splitter

### Questão 22

Observe a imagem abaixo do uso de uma função na Planilha eletrônica MS Excel 2013.



O resultado obtido através do uso desta função no valor contido nesta planilha é:

- (A) 51,38.
- (B) 25,69.
- (C) 20.
- (D) 128,4.
- (E) 0.

### Questão 23

Ao realizar um backup o usuário é informado que o tamanho total dos arquivos é de 10 (dez) GIGABYTES. Analise as opções abaixo para o armazenamento deste arquivo de backup:

- I - um disquete de 750 kilobytes;
- II - um CD-ROM de 700 megabytes;
- III - um pendrive de 1 gigabyte;
- IV - um disco rígido externo de 1 terabyte;
- V - um cartão de memória de 512 megabytes.

Qual/quais das alternativa(s) abaixo contém/contêm somente o(s) dispositivo(s) com capacidade para armazenar integralmente o backup de 10 GIGABYTES?

- (A) I e V
- (B) II e III
- (C) I, II e III
- (D) III e V
- (E) IV

### Questão 24

As extensões de um arquivo dizem ao computador qual software criou ou pode abrir o mesmo. Ao utilizar o sistema operacional Windows 10 e encontrar o arquivo "exemplo.pptx", podemos dizer que o programa que o criou e que deve ser utilizado para visualizá-lo com todas as suas propriedades corretamente é?

- (A) Visual Basic
- (B) SQL Server
- (C) Cobol
- (D) Microsoft Powerpoint
- (E) SAP ERP

### Questão 25

Em sistemas operacionais Windows, os comandos do Prompt servem para realizar a manutenção do sistema. Eles podem ser muito úteis em situações em que a interface gráfica não está disponível ou para obter informações de maneira rápida e completa. O comando que fornece uma visão geral detalhada da configuração do seu computador (sistema operacional e hardware) é:

- (A) systeminfo.
- (B) driverquery.
- (C) shutdown.
- (D) netstat.
- (E) ping.



**Questão 26**

Um ataque cibernético é uma tentativa de danificar ou destruir uma rede ou sistema digital. Pode resultar em uma violação de dados, que é quando dados sensíveis ou confidenciais são manipulados por indivíduos não autorizados. Este tipo de ataque pode assumir a forma de roubo de identidade, vírus, malware, fraude ou extorsão. Analise as seguintes recomendações:

- I - utilize senhas curtas e iguais para todos os serviços online;
- II - não use verificação em duas etapas;
- III - deixe seu sistema operacional atualizado;
- IV - utilize um antivírus e um firewall;
- V - utilize conexões desconhecidas de internet.

Qual/quais da(s) alternativas abaixo contém/contêm somente a(s) proposta(s) correta(s) para evitar um ataque cibernético?

- (A) somente I e II.
- (B) somente II e V.
- (C) somente III e IV.
- (D) somente I e V.
- (E) somente I.

**ATUALIDADES****Questão 27**

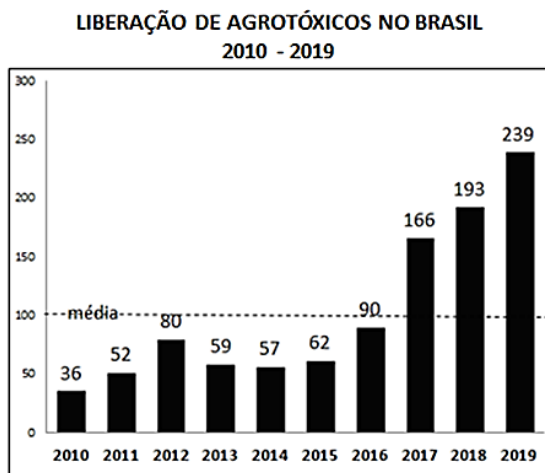
Desde 2015, após o presidente Nicolás Maduro perder as eleições parlamentares, parte da população venezuelana começou a emigrar em maiores números para alguns países da América Latina. Segundo o FGV DAPP, em Roraima, na fronteira do Brasil com a Venezuela, o município de \_\_\_\_\_, tem recebido grande parte deste fluxo, em meio ao surgimento de conflitos sociais.

Complete a lacuna marcando a alternativa que informe, corretamente, o nome desse município brasileiro.

- (A) Caracara
- (B) Pacaraima
- (C) Uiramutã
- (D) Alto Alegre
- (E) Amajari

**Questão 28**

A ANVISA aprovou em 2019 o novo marco regulatório para agrotóxicos. Dos 2.300 agrotóxicos registrados no Brasil, a ANVISA já recebeu dados para reclassificação de 1.981 produtos. Em 2017, 2018 e 2019 houve aumento, acima da média (entre 2010 e 2019) na liberação de agrotóxicos no Brasil.



Fonte: Greenpeace Brasil 25 de junho de 2019

Agrotóxicos são produtos e agentes de processos físicos, químicos ou biológicos.

Sobre os agrotóxicos no Brasil é correto afirmar que:

- I - são destinados ao uso nos setores de produção, no armazenamento e beneficiamento de produtos agrícolas, nas pastagens, na proteção de florestas, nativas ou plantadas, e de outros ecossistemas e de ambientes urbanos, hídricos e industriais.
- II - tem a finalidade de alterar a composição da flora ou da fauna, a fim de preservá-las da ação danosa de seres vivos considerados nocivos, bem como as substâncias e produtos empregados como desfolhantes, dessecantes, estimuladores e inibidores de crescimento.
- III - sua avaliação de risco, por análise sistematizada, é realizada pelo Ministério de Minas e Energia e pelo Ministério da Agricultura, Pecuária e Abastecimento sob a supervisão do Gabinete de Segurança Institucional da Presidência da República.

Está(ão) correta(s):

- (A) somente I.
- (B) somente II.
- (C) somente III.
- (D) somente I e II.
- (E) somente II e III.

**Questão 29**

O território hoje pertencente ao município de Vila Velha era habitado originalmente pelos índios \_\_\_\_\_ e \_\_\_\_\_. Em 1549, estes índios haviam entrado em luta contra os povoadores, queimando engenhos e fazendas. Em busca de refúgio, alguns colonizadores se mudaram para a ilha de Duarte Lemos e para as capitanias vizinhas. Na ilha, a povoação passou a ser chamada de Vila Nova, ao passo que no continente, no correr dos tempos, o núcleo primitivo se tornava conhecido como Vila Velha. Os índios tornaram a atacar. Em 1551, em face das inúmeras dificuldades, o donatário transferiu a sede do governo para a ilha de Vitória, que recebeu o nome de Vila Nova do Espírito Santo, mais tarde de Nossa Senhora da Vitória.

Complete a lacuna marcando a alternativa que informe, corretamente, os nomes dos grupos indígenas.

- (A) Bororó e Carajá
- (B) Timbira e Tupiniquins
- (C) Goitacás e Tupiniquins
- (D) Carajá e Goitacás
- (E) Aimoré e Bororó

**Questão 30**

Composta por 16 Senadores e 16 deputados e os suplentes, uma Comissão Parlamentar Mista de Inquérito – CPMI sobre Fake News no processo eleitoral, foi instalada no Congresso Nacional em 04/09/2019.

Sua finalidade é investigar, no prazo de 180 dias:

- I - os ataques cibernéticos que atentam contra a democracia e o debate público.
- II - a utilização de perfis falsos para influenciar os resultados das eleições 2018.
- III - a prática de cyberbullying sobre os usuários mais vulneráveis da rede de computadores, bem como sobre agentes públicos.
- IV - o uso de postagens de qualquer conteúdo nas redes sociais nacionais e internacionais.
- V - o aliciamento e orientação de crianças para o cometimento de crimes de ódio e suicídio.

Estão corretas:

- (A) somente I, II e III.
- (B) somente II, III e IV.
- (C) somente II, III, IV e V.
- (D) somente I, II, III e IV.
- (E) somente I, II, III e V.

## CONHECIMENTOS ESPECÍFICOS

### Questão 31

Os instrumentos de política urbana são importantes meios na adoção de estratégias de planejamento urbano. Acerca deles, é correto afirmar que:

- (A) a elaboração de um Plano Diretor é obrigatória para todos os municípios do País.
- (B) o Parcelamento, Edificação e Utilização Compulsória – PEUC não estabelece relação com a função social da propriedade.
- (C) o IPTU Progressivo no Tempo é a penalidade que pode ser aplicada ao proprietário de um terreno urbano que não dá uso ao seu bem.
- (D) após dois anos de aplicação de IPTU progressivo, caso o proprietário ainda não tenha dado destinação ao imóvel, o município pode desapropriar o imóvel sem pagamento.
- (E) planos complementares demarcados no Plano Diretor, tais como Planos de Reabilitação e Planos de Ação, pelo seu caráter complementar não podem indicar a necessidade de revisão do Plano Diretor.

### Questão 32

A inclusão social das pessoas com deficiências significa torná-las participantes da vida social, econômica e política, assegurando o respeito aos seus direitos no âmbito da Sociedade, do Estado e do Poder Público. Considerando os fundamentos para inclusão social de pessoas com deficiência é possível afirmar que:

- (A) nos programas habitacionais, públicos ou subsidiados com recursos públicos, a pessoa com deficiência ou o seu responsável goza de prioridade na aquisição de imóvel para moradia própria.
- (B) constitui modo de inclusão da pessoa com deficiência no trabalho a colocação competitiva, em igualdade de oportunidades com as demais pessoas, nos termos da legislação trabalhista e previdenciária, na qual devem ser atendidas as regras de acessibilidade, sendo excluído da obrigação do empregador o fornecimento de recursos de tecnologia assistiva.
- (C) a pessoa com deficiência tem direito a receber atendimento prioritário, exceto em recebimento de restituição de imposto de renda.
- (D) a deficiência afeta a plena capacidade civil da pessoa, inclusive para casar-se e constituir união estável.
- (E) a pessoa com deficiência não poderá ser obrigada a se submeter a intervenção clínica ou cirúrgica, a tratamento ou a institucionalização sem seu consentimento prévio, livre e esclarecido, mesmo que em casos de risco de morte e de emergência em saúde.

### Questão 33

A legislação ambiental brasileira tem por objetivo proteger o meio ambiente e reduzir ao mínimo as consequências de ações devastadoras. São fiscalizadas por órgãos ambientais e definem regulamentações e atos de infração em casos de não cumprimento. A Legislação Ambiental Brasileira considera Área de Preservação Permanente (APP):

- (A) se as faixas marginais de qualquer curso d'água natural perene e intermitente, excluídos os efêmeros, desde a borda da calha do leito regular, em largura mínima de 15 metros, para os cursos d'água de menos de 10 metros de largura.
- (B) se as encostas ou partes destas com declividade superior a 45º, equivalente a 100% (cem por cento) na linha de maior declive.
- (C) as áreas com vegetação nativa em altitude superior a 2.000 metros.
- (D) entorno de reservatórios artificiais de água que não decorram de barramento ou represamento de cursos d'água naturais.
- (E) as áreas no entorno das nascentes e dos olhos d'água perenes, qualquer que seja sua situação topográfica, no raio mínimo de 30 metros.

### Questão 34

AutoCAD é um software do tipo CAD (*Computer Aided Design* ou projeto assistido por computador), utilizado principalmente para a elaboração de desenho técnico. Sobre os métodos de seleção de entidades é possível afirmar que:

- (A) o comando "*Point*" seleciona entidades através de um clique com o botão direito do mouse sobre estas na área de trabalho.
- (B) o comando "*Crossing*" seleciona entidades através de uma janela aberta com o mouse. Este método de seleção seleciona somente as entidades que estiverem completamente dentro da janela formada.
- (C) o comando "*Window Polygon*" seleciona entidades através de um polígono de seleção criado na área gráfica. Este comando seleciona todas as entidades que estiverem tangenciando e que se situam na parte interna do polígono formado.
- (D) o comando "*Fence*" seleciona entidades através de uma linha de seleção, que seleciona todas as entidades que intersectam esta linha.
- (E) o comando "*All*" seleciona todas as entidades pertencentes ao desenho atual, com exceção daquelas que estão fora da área de visualização.

**Questão 35**

Na construção civil é comum delegar o ato de construir a função de operários, não estando, portanto, o profissional (engenheiro e/ou arquiteto) tecnicamente e teoricamente responsável pela atividade, no controle do serviço. A respeito das responsabilidades decorrentes da construção é possível afirmar que:

- (A) se uma obra vier a desabar, por imperícia do construtor, causando danos materiais a terceiros e lesões pessoais em operários, dará ensejo, simultaneamente, às quatro espécies de responsabilidades, ou seja, à reparação do dano patrimonial, à punição criminal, à sanção profissional e à indenização do acidente dos operários.
- (B) se uma obra vier a desabar, por imperícia do operário, causando danos materiais a terceiros e lesões pessoais em operários, dará ensejo, apenas a reparação do dano patrimonial.
- (C) para quaisquer reparos efetuados pela construtora, após a entrega da obra, o prazo de garantia de 24 meses recomeça a contagem.
- (D) prescreve em 24 meses após a finalização da obra, a responsabilidade da construtora em reparar danos causados por fato do produto ou do serviço prestados por ela.
- (E) prescreve em 24 meses após entrega das chaves aos proprietários dos imóveis, a responsabilidade da construtora em reparar danos causados por fato do produto ou do serviço prestados por esta.

**Questão 36**

De acordo com o Parágrafo Único do Artigo 3º da Lei Federal nº 6.766/79, dispositivo legal referente ao parcelamento do solo para fins urbanos, este NÃO será permitido nas seguintes condições:

- (A) quando o terreno estiver situado a menos de 200 metros da margem de um curso d'água utilizado para abastecimento hídrico de área urbana.
- (B) quando o terreno apresentar condições geológicas que não aconselhem a construção de edificações.
- (C) quando for constatada a presença de sítios arqueológicos ou paleontológicos na área.
- (D) quando a área apresentar declividade igual ou superior a 20% (vinte por cento), salvo parecer técnico contrário de órgãos municipais.
- (E) quando o terreno estiver em área considerada de risco para segurança pública, como áreas próximas a presídios ou propriedade militar.

**Questão 37**

Uma das principais estratégias de conforto térmico adotada na grande maioria das capitais brasileiras é a ventilação natural. Sobre a ventilação natural é possível afirmar que.

- (A) Para uma ventilação natural ser considerada uma ventilação cruzada, o fluxo de ar deve ocorrer por somente um ambiente, entrando e saindo pelos vãos de janelas do mesmo ambiente
- (B) O shed permite a entrada de luz natural, mas também permite a ventilação natural dos ambientes e, dependendo da sua orientação, pode funcionar como captador de vento ou como extrator do ar quente
- (C) Um beiral maior pode reduzir a zona de pressão do lado externo à abertura, reduzindo o fluxo de ar para o interior
- (D) As janelas do tipo basculante e maxim-ar possuem áreas úteis de ventilação em função apenas do tamanho da janela
- (E) A vegetação não pode ser utilizada como forma de direcionamento do vento para melhor aproveitamento de uma ventilação numa edificação

**Questão 38**

Planejar é prever as ações e os recursos que serão necessários para realizar uma atividade em um determinado período de tempo. Sobre o planejamento de obras é correto afirmar que:

- (A) em um cronograma de obras não há necessidade de estabelecer uma hierarquia de atividades a serem executadas.
- (B) o levantamento topográfico, estudos geotécnicos e demolições são alguns exemplos de serviços preliminares que podem compor um cronograma.
- (C) o movimento de terra somente deve ser realizado em terrenos com alicive, visando o máximo rendimento e economia.
- (D) a instalação provisória de luz somente deve ser realizada após a locação da obra.
- (E) o canteiro de obras deve estar posicionado aos fundos do terreno, visando não interferir no fluxo de operários e máquinas.

**Questão 39**

O poder público através de um conjunto de ações pode intervir nos processos urbanos e especialmente na produção do espaço, regulamentando-o, controlando-o e/ou direcionando-o. Tais medidas são considerados instrumentos urbanísticos, como é o caso dos planos diretores que:

- (A) não poderão fixar áreas nas quais o direito de construir poderá ser exercido acima do coeficiente de aproveitamento básico adotado.
- (B) são obrigatórios para cidades com mais de 100 mil habitantes.
- (C) devem regular o uso, ocupação e parcelamento do solo urbano a partir das características naturais e paisagísticas, e da capacidade de suporte do meio físico, da infra-estrutura de saneamento básico e da estrutura do sistema viário.
- (D) devem ser revistos, pelo menos, a cada oito anos.
- (E) devem englobar o território do estado como um todo.

**Questão 40**

É crescente o número de projetos de novas edificações que já estão prevendo o sistema de gás centralizado com tanque fixo recarregável, porém ainda é comum no Brasil o uso de baterias substituíveis de botijões de GLP. A respeito das instalações de gás, é possível afirmar que:

- (A) o tanque estacionário, por mais que seja maior que o espaço necessário para armazenar a mesma quantidade de gás em cilindros comuns, proporciona maior segurança.
- (B) no sistema de tanque estacionário é necessário apenas encaixar a mangueira do caminhão do tanque e fazer o abastecimento.
- (C) as edificações deverão dispor de abrigos, dentro dos quais serão instalados os medidores de consumo, que podem estar situados em compartimentos fora da área comum da edificação.
- (D) as canalizações de gás podem passar em subsolos e compartimentos não ventilados.
- (E) a localização dos abrigos de botijões poderá estar situada em escadas, desde que possua fácil acesso.

**Questão 41**

A fim de proporcionar a utilização de edificações, mobiliário, equipamentos urbanos e elementos à maior quantidade possível de pessoas, independentemente de idade, estatura ou limitação de mobilidade ou percepção, é necessário respeitar critérios e parâmetros técnicos quanto ao projeto, construção, instalação e adaptação do meio urbano e rural, e de edificações às condições de acessibilidade. Com base nos elementos de acessibilidade é possível afirmar que:

- (A) a largura mínima necessária para a transposição de obstáculo isolado com extensão de no máximo 0,40 m deve ser de 0,80 m. Quando o obstáculo isolado tiver uma extensão acima de 0,40 m, a largura mínima deve ser de 0,90 m.
- (B) os pisos táteis não precisam ter cor contrastante com o piso adjacente, uma vez que os deficientes visuais não enxergam.
- (C) considerando uma inclinação de 8,33%, uma rampa que precise alcançar uma altura de 2,6 metros, terá 43,61 metros de comprimento e 4 patamares.
- (D) mobiliários com altura entre 0,60 m até 2,10 m do piso podem representar riscos para pessoas com deficiências visuais, caso tenham saliências com mais de 0,20 metros de profundidade.
- (E) recomenda-se que a distância máxima a ser percorrida de qualquer ponto da edificação até o sanitário ou banheiro acessível seja de até 30 metros.

**Questão 42**

Sobre índices urbanísticos é correto afirmar que:

- (A) recuo é o afastamento máximo exigido da construção em relação às divisas do lote.
- (B) um terreno de 300m<sup>2</sup> com taxa de permeabilidade de 30% pode receber uma edificação com no máximo 210m<sup>2</sup> de área total construída.
- (C) em um terreno de 600m<sup>2</sup> com coeficiente de aproveitamento de 1,5 é possível construir uma edificação de até 400m<sup>2</sup>.
- (D) taxa de ocupação é a relação entre a área da projeção horizontal da edificação ou edificações e a área do lote.
- (E) densidade residencial bruta é a relação entre a população residente e a área ocupada pelos lotes residenciais.

**Questão 43**

A Topografia é a base para diversos projetos de arquitetura, onde o conhecimento das formas e dimensões do terreno se torna necessária. Sobre o levantamento topográfico planialtimétrico afirma-se que:

- (A) as condições exigíveis para a execução de um levantamento topográfico devem compatibilizar medidas angulares, medidas lineares e medidas de desníveis, assegurando que não haja quaisquer propagações de erros.
- (B) é o levantamento dos limites e confrontações de uma propriedade, pela determinação do seu perímetro, incluindo, quando houver, o alinhamento da via ou logradouro com o qual faça frente, sem a necessidade de orientação e amarração a pontos materializados no terreno de uma rede de referência cadastral.
- (C) o levantamento altimétrico dos pontos de detalhe deve ser realizado apenas por nivelamento trigonométrico, a partir dos vértices das poligonais, cujas altitudes ou cotas devem ser determinadas a partir das referências de nível do apoio topográfico.
- (D) a representação topográfica do relevo, dependendo da finalidade do levantamento e do relevo, pode ser por curvas de nível complementadas com pontos cotados, por curvas de nível ou somente por pontos cotados.
- (E) é o levantamento que objetiva, exclusivamente, a determinação das alturas relativas a uma superfície de referência, dos pontos de apoio e/ou dos pontos de detalhes, pressupondo-se o conhecimento de suas posições planimétricas, visando à representação altimétrica da superfície levantada.

**Questão 44**

As fundações são as estruturas na porção mais baixa de uma edificação que transmitem e ancoram as cargas da superestrutura diretamente ao solo ou à rocha. Sobre as fundações pode-se afirmar que:

- (A) a Radier é classificada como uma fundação profunda.
- (B) a estaca Strauss é um tipo de fundação rasa que perfura o solo com brocas rotativas.
- (C) a sapata excêntrica é caracterizada por ser um tubo de aço cravado no solo com a ponta inferior fechada por uma bucha de brita ou cascalho.
- (D) a sapata corrida é uma fundação rasa que se estende ao longo de toda a estrutura a ser apoiada.
- (E) a sapata isolada é uma fundação rasa cuja base é sempre quadrada e trabalha separadamente das outras fundações.

**Questão 45**

No desenvolvimento de um projeto usando o *software* AUTOCAD, o comando FILLET é utilizado para:

- (A) criar cantos arredondados em linhas e polilinhas.
- (B) criar chanfros em arestas de um polígono.
- (C) alinhar uma ou mais entidades em relação à outra.
- (D) rotacionar uma ou mais entidades em torno de eixo pré-especificado.
- (E) cortar (apagar) uma ou mais partes de um objeto em relação a uma ou mais facas cortantes (entidades selecionadas para cortar) quando estas estão se cruzando.

**Questão 46**

As cidades são compostas de um sistema viário, que são um conjunto de vias, classificadas, de um sistema de rodovias, ferrovias e/ou de outras formas de transportes. Sobre a hierarquia viária é possível afirmar que:

- (A) vias arteriais municipais são vias de ligação intermunicipal que funcionam na coleta e distribuição dos fluxos de veículos que circulam pelos centros metropolitanos com maior concentração de atividades.
- (B) vias arteriais metropolitanas são vias de ligação intramunicipal que funcionam na coleta e distribuição dos fluxos de veículos que circulam pelos centros com maior concentração de atividades do município.
- (C) vias locais principais são vias de acesso ao bairro que distribuem os fluxos de veículos pelas vias locais do próprio bairro.
- (D) vias coletoras são vias complementares às vias locais com função coletora e distribuidora dos fluxos de veículos que circulam pelos bairros, centros de bairros e de vizinhança.
- (E) vias de pedestres são vias para circulação de pedestres, ciclistas e tráfego geral de veículos.

**Questão 47**

A Agenda 21 é um instrumento de planejamento para a construção de sociedades sustentáveis, em diferentes bases geográficas, que concilia métodos de proteção ambiental, justiça social e eficiência econômica. Com base no conceito de cidades sustentáveis e suas aplicações, pode-se afirmar que:

- (A) melhorar a mobilidade urbana e a poluição sonora não contribuem para tornar uma cidade sustentável.
- (B) para a construção de sociedades sustentáveis, em diferentes bases geográficas, deve-se considerar apenas métodos de proteção ambiental.
- (C) a Política Nacional de Resíduos Sólidos tem como pilar o princípio da responsabilidade individual, isto é, a indústria tem a responsabilidade pelos resíduos sólidos gerados e deve garantir que eles tenham uma disposição final adequada.
- (D) o planejamento das cidades brasileiras através de instrumentos urbanísticos de regulação de solo, como os Planos Diretores, não afeta o desenvolvimento urbano sustentável.
- (E) buscar um melhor ordenamento do ambiente urbano primando pela qualidade de vida da população é trabalhar por uma cidade sustentável.

**Questão 48**

Os projetos de instalações de drenagem de águas pluviais devem atender requisitos que garantam níveis aceitáveis de funcionalidade, segurança, higiene, conforto e durabilidade. De acordo com estes requisitos é possível afirmar que:

- (A) lajes impermeabilizadas devem ter declividade mínima de 5%.
- (B) a rede de águas pluviais pode ser ligada a outras instalações prediais.
- (C) nas tubulações enterradas, devem ser previstas caixas de areia sempre que houver conexões com outra tubulação, mudança de declividade, mudança de direção e ainda a cada trecho de 50m nos percursos retilíneos.
- (D) a inclinação das calhas de beiral e platibanda deve ser uniforme, com valor mínimo de 0,5%.
- (E) os condutores verticais podem ser colocados apenas internamente ao edifício e sempre que possível, em mais de uma prumada.

**Questão 49**

O artigo 18 do Decreto-Lei nº 25/1937, que organiza a proteção do patrimônio histórico e artístico nacional, versa sobre a área de entorno dos bens. Segundo ele, “sem prévia autorização do Serviço do Patrimônio Histórico e Artístico Nacional, não se poderá, na vizinhança da coisa tombada, fazer construção que lhe impeça ou reduza a visibilidade, nem nela colocar anúncios ou cartazes, sob pena de ser mandada destruir a obra ou retirar o objeto, impondo-se neste caso a multa de cinquenta por cento do valor do mesmo objeto.”

Ao longo dos anos a interpretação deste artigo foi atualizada com uma ampliação do significado da área envoltória para a preservação de um bem cultural.

Sobre o tema é INCORRETO afirmar que:

- (A) o referido Decreto-Lei foi recepcionado pela Constituição Federal de 1988 e continua vigente como um dos principais instrumentos jurídicos para a proteção do patrimônio cultural material.
- (B) a delimitação da área de entorno de um tombamento visa impedir impactos ao bem tombado tanto do ponto de vista físico (distância, perspectiva, altura) quanto finalístico (harmonia, integração, ambiência).
- (C) poluição visual causada por publicidades comerciais pode ser um exemplo de impacto negativo no entorno de um bem tombado a que o artigo se refere.
- (D) o artigo é somente aplicável quando estabelecidas portarias de regulamentação e normatização do entorno dos bens tombados.
- (E) no âmbito internacional, a “Recomendação de Paris sobre Paisagens e Sítios” de 1962 alerta para a necessidade se assegurar uma proteção especial às proximidades dos monumentos.

**Questão 50**

A iluminação artificial inadequada pode causar desconforto, fadiga visual, ofuscamento, redução da eficiência visual. Portanto, garantir uma iluminação adequada é uma das principais responsabilidades não só dos projetistas, mas também de administradores e autoridades locais. Com base na iluminação artificial é correto afirmar que:

- (A) para iluminação de vitrines e provadores de lojas devem-se utilizar lâmpadas com IRC de até 60.
- (B) uma lâmpada LED de 50W e eficiência luminosa de 32lm/W, ilumina mais que uma lâmpada fluorescente compacta de 20W e eficiência luminosa de 80lm/W.
- (C) uma lâmpada de LED na cor branco “quente” (6500K) reproduz melhor a cor de objetos que uma lâmpada branco “frio” (2700K).
- (D) vida mediana de uma lâmpada é o número de horas resultantes, em que 75% das lâmpadas ensaiadas ainda permanecem acesas.
- (E) a temperatura de cor de uma lâmpada expressa a aparência de cor da luz emitida pela fonte de luz. Quanto mais alta a temperatura de cor, mais branca (clara) é a tonalidade de cor da luz.

**DISCURSIVA**

Você deverá escolher umas das propostas para fazer a sua Prova Discursiva.

**Questão 1****Proposta 1**

CONSTITUIÇÃO FEDERAL / 1988.

A REPÚBLICA FEDERATIVA DO BRASIL, FORMADA PELA UNIÃO INDISSOLÚVEL DOS ESTADOS E MUNICÍPIOS E DO DISTRITO FEDERAL, CONSTITUI-SE EM ESTADO DEMOCRÁTICO DE DIREITO E TEM COMO FUNDAMENTOS:

- I - a soberania;
- II - a cidadania;
- III - a dignidade da pessoa humana;
- IV - os valores sociais do trabalho e da livre iniciativa;
- V - o pluralismo político.

Produza um texto dissertativo sobre os 5 (cinco) fundamentos aqui citados.

**Proposta 2**

A LEI ORGÂNICA 1/ 1990 - DO MUNICÍPIO DE VILA VELHA, TRATA DE DIVERSOS TEMAS DE INTERESSE DA POPULAÇÃO DO MUNICÍPIO, DENTRE OS QUAIS TEMOS A FIGURA DOS AGENTES MUNICIPAIS.

Produza um texto dissertativo sobre os Agentes da Guarda Municipal e sobre a Secretaria de Obras do Município de Vila Velha.

**Complemente o seu texto apresentando exemplos.**

- ✓ No desenvolvimento da proposta escolhida, utilize os conhecimentos adquiridos ao longo de sua formação, além de informações adquiridas.
- ✓ Seu texto deve ser redigido na modalidade padrão da Língua Portuguesa.
- ✓ O texto deve ter entre 25 e 30 linhas.



FOLHA DE RASCUNHO

1 \_\_\_\_\_

2 \_\_\_\_\_

3 \_\_\_\_\_

4 \_\_\_\_\_

5 \_\_\_\_\_

6 \_\_\_\_\_

7 \_\_\_\_\_

8 \_\_\_\_\_

9 \_\_\_\_\_

10 \_\_\_\_\_

11 \_\_\_\_\_

12 \_\_\_\_\_

13 \_\_\_\_\_

14 \_\_\_\_\_

15 \_\_\_\_\_

16 \_\_\_\_\_

17 \_\_\_\_\_

18 \_\_\_\_\_

19 \_\_\_\_\_

20 \_\_\_\_\_

21 \_\_\_\_\_

22 \_\_\_\_\_

23 \_\_\_\_\_

24 \_\_\_\_\_

25 \_\_\_\_\_

26 \_\_\_\_\_

27 \_\_\_\_\_

28 \_\_\_\_\_

29 \_\_\_\_\_

30 \_\_\_\_\_

RASCUNHO